

ՄԻԱՄՆԱԿԱՆ ՔՆՆՈՒԹՅՈՒՆ

2021

ԱՇԽԱՐՀԱԳՐՈՒԹՅՈՒՆ

ԹԵՍՏ 1

Խմբի համարը

Նստարանի համարը

Հարգելի՛ դիմորդ

Խորհուրդ ենք տալիս առաջադրանքները կատարել ըստ հերթականության: Ուշադիր կարդացե՛ք յուրաքանչյուր առաջադրանք և պատասխանների առաջարկվող տարբերակները: Եթե Ձեզ չի հաջողվում որևէ առաջադրանքի անմիջապես պատասխանել, ժամանակը խնայելու նպատակով կարող եք այն բաց թողնել և դրան անդրադառնալ ավելի ուշ:

Ձեր առջև դրված թեստ-գրքույկի էջերի դատարկ մասերը ազատորեն կարող եք օգտագործել սևագրության համար: ***Թեստ-գրքույկը չի ստուգվում: Ստուգվում է միայն պատասխանների ճկաթուղթը:***

Առաջադրանքները կատարելուց հետո չմոռանաք պատասխանները ուշադիր և խնամքով նշել պատասխանների ճկաթղթում: Պատասխանների ճկաթղթի ճիշտ լրացումից է կախված Ձեր քննական միավորը:

Մաղթում ենք հաջողություն:

1) Երկրների, տարածաշրջանների բնությունն ու հասարակությունն իրենց բաղադրիչներով համալիր ուսումնասիրում է.

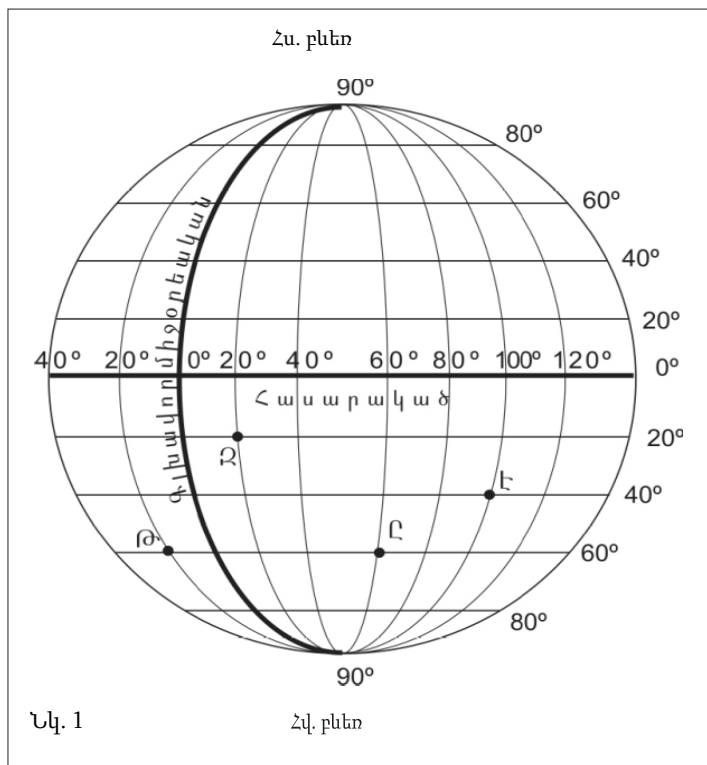
- 1) երկրաբնապահպանությունը
- 2) երկրաբանությունը
- 3) երկրաձևաբանությունը
- 4) երկրագրությունը

2) Կողմնորոշված կողմնացույցի մագնիսական սլաքը հորիզոնի ո՞ր կողմն է ցույց տալիս.

- 1) հարավային
- 2) արևմտյան
- 3) հյուսիսային
- 4) արևելյան

3) Նկար 1.- ում Ձ տառով նշված կետի աշխարհագրական կոորդինատները որո՞նք են:

- 1) հվ. լ. 20° արլ. ե. 20°
- 2) հս. լ. 20° արմ. ե. 20°
- 3) հվ. լ. 20° արմ. ե. 20°
- 4) հս. լ. 20° արլ. ե. 20°



4) Երկրի օրական պտույտի հետևանք է.

- 1) պասսատների առաջացումը
- 2) մուսսոնների առաջացումը
- 3) ժամերի տարբերությունը
- 4) երկնքի ամպամածությունը

5

Եթե տեղագրական քարտեզում հորիզոնականները խիտ դասավորություն ունեն, ապա այդ տեղամասում.

- 1) լեռնալանջը բացակայում է
- 2) լեռնալանջը մեղմաթեք է
- 3) լեռնալանջը զառիթափ է
- 4) լեռնալանջը բուսագուրկ է

6

1 : 7 000 000 մասշտաբի քարտեզում երկու կետերի հեռավորությունը 8 սմ է: Դրանց իրական հեռավորությունը կլինի.

- 1) 5,6 կմ
- 2) 56 կմ
- 3) 560 կմ
- 4) 5600 կմ

7

Բնութագրումով որոշել Երկրի շերտը.

Երկրի ամենավերին և ամենաբարակ շերտն է: Այն կազմված է համեմատաբար թեթև ապարներից: Այդ շերտն է.

- 1) Երկրի միջուկը
- 2) ստորին միջնապատյանը
- 3) երկրակեղևը
- 4) վերին միջնապատյանը

8

Ո՞ր պնդումն է սխալ.

- 1) Հանգած հրաբուխներ են Վեգուվը և Կրակատաուն:
- 2) Շատ գեյզերներ կան Կամչատկա թերակղզում:
- 3) Երկրի ընդերքում այն տեղը, որտեղ առաջանում են ապարաշերտերի կտրուկ տեղաշարժեր, կոչվում է երկրաշարժի օջախ:
- 4) Գեյզերների տաք ջրերը մարդիկ օգտագործում են ջերմոցները և բնակարանները տաքացնելու համար:

9

Ի՞նչ գազ է արտազատվում լուսասինթեզի ժամանակ.

- 1) ածխաթթու գազ
- 2) թթվածին
- 3) ազոտ
- 4) օդոն

10

Ո՞ր գոնայում են ապրում փիղը և ընձուղտը.

- 1) անապատ
- 2) սավաննա
- 3) տափաստան
- 4) խառը անտառ

11

Գետի անկումը 800 մ է, երկարությունը՝ 200 կմ: Որքա՞ն է գետի միջին թեքությունը.

- 1) 2 մ/կմ
- 2) 4 մ/կմ
- 3) 6 մ/կմ
- 4) 8 մ/կմ

12

Ո՞ր պնդումն է ճիշտ.

- 1) Մուսսոնային կլիմա ունեցող վայրերում գետերը հորդանում են ձմռանը:
- 2) Հասարակածային գոտու գետերը հորդանում են ամռանը:
- 3) Սառցադաշտային սնում ունեցող գետերը հորդանում են աշնանը:
- 4) Միջերկրածովյան կլիմա ունեցող վայրերում գետերը հորդանում են ձմռանը:

13

Բնութագրումով որոշել բնական զոնան.

Այս բնական զոնան տարածվում է մեծամասամբ հյուսիսային կիսագնդում և ընդգրկում է Հյուսիսային Ամերիկայի և Եվրասիայի հյուսիսային շրջաններն ու նրանց հարող կղզիները: Կլիման մերձարկտիկական է: Ծառեր գրեթե չեն աճում, և տարածված են մամուռներ ու քարաքոսներ: Ո՞ր բնական զոնան է.

- 1) սառցային
- 2) սավաննա
- 3) տունդրա
- 4) տայգա

14

Տափաստանների բնական զոնան հիմնականում ո՞ր հողերի վրա է տարածվում.

- 1) սևահողերի
- 2) կարմրագորշ
- 3) դարչնագույն
- 4) կարմրադեղին

15

Ո՞ր լեռն է ամենաբարձրը Անտարկտիդայում.

- 1) Մոնբլան
- 2) Էլբրուս
- 3) Էրեբուս
- 4) Վինսոն

16

Ո՞ր պնդումն է ճիշտ.

- 1) Մեծ ջրբաժան լեռնաշղթան ունի հրաբխային ծագում:
- 2) Մուրեյ գետը սկիզբ է առնում Էյր լճից:
- 3) Ավստրալիայի ներքին շրջաններում տեղումներն առատ են:
- 4) Ավստրալիայում սառցադաշտեր չկան:

17

Հարավային Ամերիկայի արևմտյան ափով ո՞ր ծովային հոսանքն է անցնում:

- 1) Պերուական
- 2) Գվիանական
- 3) Բրազիլական
- 4) Ֆոլկլենդյան

18

Ընտրել Հարավային Ամերիկայի հարթավայրերի և դրանց բնութագրիչների համապատասխանությունների ճիշտ շարքը.

ա. Պատագոնիա
բ. Բրազիլական
գ. Լա Պլատայի
դ. Ամազոնի

1. Տափարակ հարթավայր է, ունի թեքություն դեպի արևելք, առավելապես տարածվում են խոնավ հասարակածային անտառներ:
2. Սարահարթ է, կիսաանապատ, տարածվում է բարեխառն գոտում:
3. Ընդարձակ հարթավայր է, կան պլատֆորմի կարծր բյուրեղային հիմքի մերկացած տեղամասեր՝ վահաններ, տարածվում են սավաննաներ՝ կամպոս:
4. Տափարակ հարթավայր է, ունի թեքություն դեպի հարավ, նրա միջով է հոսում Պարանա գետը:

- 1) ա-2, բ-3, գ-1, դ-4
- 2) ա-3, բ-1, գ-2, դ-4
- 3) ա-2, բ-3, գ-4, դ-1
- 4) ա-3, բ-2, գ-4, դ-1

19

Ո՞ր պնդումն է սխալ.

- 1) Հյուսիսային Ամերիկյան ամբողջությամբ արևմտյան կիսագնդում է:
- 2) Հյուսիսային Ամերիկայի փոքր մասը հարավային կիսագնդում է:
- 3) Հյուսիսային Ամերիկյան Հարավային Ամերիկային միանում է Պանամայի պարանոցով:
- 4) Հյուսիսային Ամերիկյան Եվրասիայից բաժանվում է Բերինգի նեղուցով:

20

Ո՞ր գույգն է սխալ.

- 1) Լաբրադոր թերակղզի — Լաբրադորի նեղուց
- 2) Կալիֆոռնիա թերակղզի — Կալիֆոռնիական ծոց
- 3) Ալյասկա թերակղզի — Ալյասկայի ծոց
- 4) Ֆլորիդա թերակղզի — Ֆլորիդայի նեղուց

21

Աֆրիկայի վերաբերյալ ո՞ր պնդումն է սխալ:

- 1) Կապի և Դրակոնյան լեռները հին, քայքայված լեռներ են:
- 2) Աֆրիկայի հիմքում ընկած է Գոնդվանա հնագույն խոշոր ցամաքի մասը կազմող Աֆրիկական պլատֆորմը:
- 3) Աֆրիկայի մակերևույթում տիրապետում են սարահարթերը:
- 4) Աֆրիկայում ամենաբարձր ջերմաստիճանը գրանցվել է հասարակածային գոտում:

22

Աֆրիկայի վերաբերյալ ո՞ր պնդումն է ճիշտ.

- 1) Արևմուտքում գտնվող Կամերուն գործող հրաբուխը մայրցամաքի ամենախոնավ շրջանն է:
- 2) Կլիման ձևավորող գլխավոր գործոնը ռելիեֆն է:
- 3) Մայրցամաքի վրա ձևավորվում է մթնոլորտային ճնշման 4 մարզ՝ երկու բարձր, երկու ցածր:
- 4) Կանարյան սառը հոսանքը մեծ դեր է խաղացել Սահարա անապատի առաջացման գործում:

23

Եվրասիայի կլիմայի վերաբերյալ ո՞ր պնդումն է սխալ.

- 1) Մայրցամաքը տարածվում է հյուսիսային կիսագնդի բոլոր կլիմայական գոտիներում:
- 2) Տարածքում ձևավորվում են օդային զանգվածների բոլոր չորս հիմնական տիպերը:
- 3) Տարածքի մեծ մասի կլիման ձևավորվել է բարեխառն օդային զանգվածների ազդեցությամբ:
- 4) Մայրցամաքի հյուսիսն ամբողջ տարին անտարկտիկական ցուրտ և չոր օդային զանգվածների ազդեցության տակ է:

24

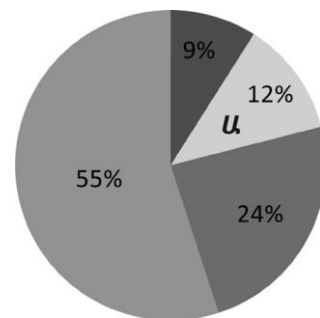
Քաղաքական քարտեզի ձևավորման նորագույն ժամանակաշրջանի առաջին փուլի կարևոր իրադարձությունն չէ.

- 1) ԽՍՀՄ-ի կազմավորումը
- 2) Ավստրո-Հունգարիայի փլուզումը
- 3) ԱՄՆ-ի կազմավորումը
- 4) Օսմանյան կայսրության փլուզումը

25

Դիագրամում տրված է երկրագնդի բնակչության բաշխումն ըստ բարձրության գոտիների: Ո՞ր բարձրության գոտուն է համապատասխանում Ա տառը.

- 1) մինչև 200 մ
- 2) 200-500 մ
- 3) 500-1000 մ
- 4) 1000-2000 մ



26

Պետության բնակչության թիվը 200 մլն մարդ է, գյուղական բնակչության թիվը՝ 50 մլն: Ուրբանիզացման մակարդակը կլինի.

- 1) 75%
- 2) 50%
- 3) 40%
- 4) 25%

27

Ո՞ր պնդումն է սխալ.

- 1) Համաշխարհային տնտեսությունն (ՀՏ) աշխարհի բոլոր երկրների ազգային տնտեսությունների փոխկապակցված ամբողջությունն է:
- 2) ՀՏ-ի տարածքային միավորները վերազգային ընկերություններն են:
- 3) ՀՏ-ն մինչև 19-րդ դարի վերջը ուներ միակենտրոն բնույթ, այժմ բազմակենտրոն է:
- 4) ՀՏ-ի զարգացման փուլերից է արդյունաբերականը:

28

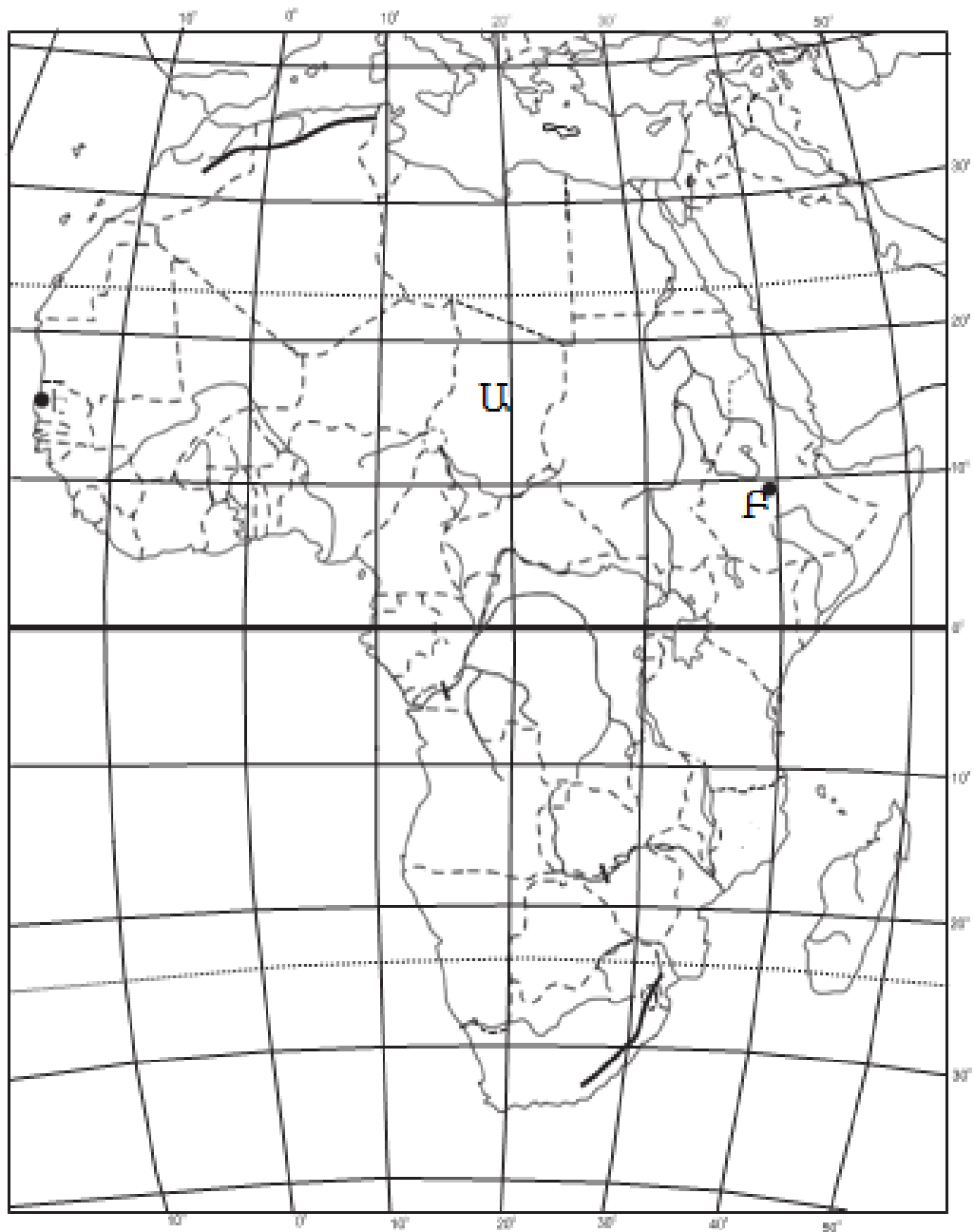
Համաշխարհային տնտեսության ճյուղերից ո՞րն է առաջատար աշխատողների թվով.

- 1) արդյունաբերությունը
- 2) ծառայությունների ոլորտը
- 3) գյուղատնտեսությունը
- 4) տեղեկատվական ոլորտը

29

Ո՞ր պնդումն է սխալ.

- 1) Համաշխարհային թեթև և սննդի արդյունաբերության հիմնական հումքային բազան գյուղատնտեսությունն է:
- 2) Թեթև և սննդի արդյունաբերության տեղաբաշխումը համատարած է, քանի որ բոլոր երկրներում էլ կա:
- 3) Թեթև և սննդի արդյունաբերությունը հիմնականում թողարկում է սպառման արտադրանք:
- 4) Թեթև և սննդի արդյունաբերությունը տնտեսության նորագույն ճյուղերն են:



քարտեզ 1

30 Ո՞ր պետությունն է քարտեզ 1-ում նշված Ա տառով.

- 1) ՀԱՀ
- 2) Քենիա
- 3) Չադ
- 4) Լիբիա

31 Ո՞ր մայրաքաղաքն է քարտեզ 1-ում նշված Բ տառով.

- 1) Ադիս Աբեբա
- 2) Կահիրե
- 3) Անտանանարիվու
- 4) Ռաբատ

32

Կենտրոնական Ասիա տարածաշրջանի վերաբերյալ ո՞ր պնդումն է սխալ.

- 1) Բոլոր երկրները չունեն ելք դեպի ծով:
- 2) Բնակչության մեծ մասը խոսում է թյուրքական լեզվախմբի մեջ մտնող լեզուներով:
- 3) Բարձր է բնակչության միջին խտությունը:
- 4) Գերիշխող կրոն է մահմեդականությունը:

33

Հարավարևմտյան Ասիայի վերաբերյալ ո՞ր պնդումն է ճիշտ.

- 1) Տարածաշրջանի մեջ են մտնում Արաբական և Հինդուստան թերակղզիները:
- 2) Այստեղ են առաջացել քրիստոնեություն և բուդդայականություն կրոնները:
- 3) Երկրների մեծ մասի բնակչության կազմում գերակշռում են կանայք:
- 4) Բարձր է բնակչության բնական աճը:

34

Ո՞ր մշակաբույսի աճեցմամբ է Իտալիան աշխարհում առաջատար.

- 1) կակաոյի
- 2) սուրճի
- 3) խաղողի
- 4) ցորենի

35

Ո՞ր պետությունները Լատինական Ամերիկայում չեն.

- 1) Կոլումբիան և Պերուն
- 2) Կանադան և Շվեդիան
- 3) Կուբան և Ուրուգվայը
- 4) Արգենտինան և Չիլին

36

Ավստրալիայի վերաբերյալ ո՞ր պնդումն է սխալ.

- 1) Գառան մսի արտադրությամբ աշխարհում առաջինն է:
- 2) Աշխարհում առաջատարներից է ալյումինի հումքի՝ բոքսիտների արդյունահանմամբ և արտահանմամբ:
- 3) Երկրում մշակվող գլխավոր հացահատիկային մշակաբույսը ցորենն է:
- 4) Բնակչությունը հիմնականում կենտրոնացած է հարավարևմտյան շրջաններում:

37

«Օգտակար հանածո — հանքավայր» գույգերիցընտրել սխալը.

- 1) քարածուխ — Ռուրի ավազան
- 2) պղինձ — Անդերի լեռներ
- 3) գազ — Հյուսիսային ծով
- 4) երկաթ — Պարսից ծոց

38

Ռուսաստանի Դաշնության վերաբերյալ ո՞ր պնդումն է ճիշտ.

- 1) «Ժողովրդագրական պայթյունը» կանխելու նպատակով երկիրը վարում է բնակչության աճի կրճատման ժողովրդագրական քաղաքականություն:
- 2) Բնակչության թվաքանակով աշխարհի երրորդ պետությունն է Չինաստանից և Հնդկաստանից հետո:
- 3) Ըստ պետական կարգի՝ նախագահական հանրապետություն է:
- 4) Երկրի տարածքում բնակվող մեծաթիվ ժողովուրդներից են չուվաշները:

39

Հյուսիսային Եվրոպա տարածաշրջանի վերաբերյալ ո՞ր պնդումն է սխալ.

- 1) Հարուստ է սառցադաշտային ծագման լճերով:
- 2) Աչքի է ընկնում բնակչության բարձր բնական աճով:
- 3) Բոլոր երկրներն ունեն ելք դեպի Համաշխարհային օվկիանոս:
- 4) Տարաբնակեցման ցանցում գերակշռում են քաղաքային բնակավայրերը:

40

Բնութագրումով որոշել պետությունը.

Եվրոպական այս պետության անունը թարգմանաբար նշանակում է սառցե երկիր: Սակայն այն բացառիկ հարուստ է գեյզերներով: Երկրաջերմային էներգիան լայնորեն կիրառվում է բնակարանների և ջերմոցների ջեռուցման համար: Ո՞րն է այդ պետությունը.

- 1) Իռլանդիան
- 2) Ֆինլանդիան
- 3) Իսլանդիան
- 4) Նորվեգիան

41

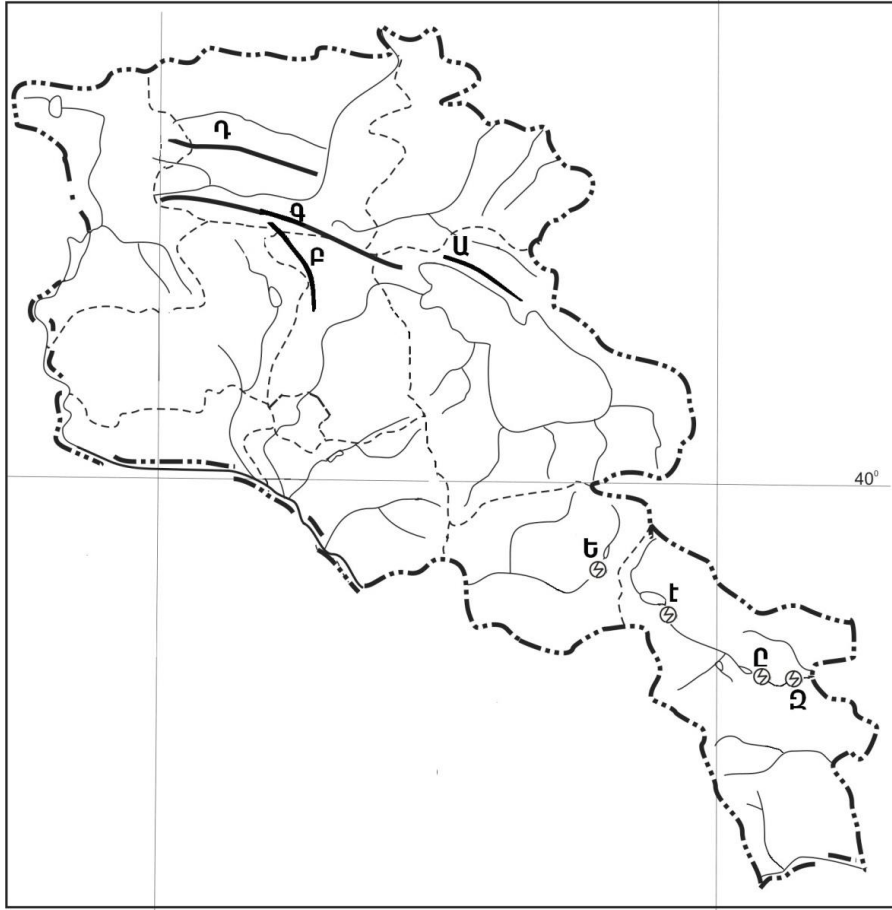
Հայկական պար լեռնաշղթայի վրա է.

- 1) Գայլատու լիճը
- 2) Քարի լիճը
- 3) Կապուտան լիճը
- 4) Պարզ լիճը

42

Ո՞ր լեռնաշղթան ՀՀ հարավում չէ:

- 1) Զանգեզուրի
- 2) Վայքի
- 3) Վիրահայոց
- 4) Մեղրու



քարտեզ 2

43 Քարտեզ 2–ում Ծաղկունյաց լեռնաշղթան ո՞ր տառով է նշված.

- 1) Ա
- 2) Բ
- 3) Գ
- 4) Դ

44 Քարտեզ 2–ում Սպանդարյանի ջրային էլեկտրակայանը ո՞ր տառով է նշված.

- 1) Զ
- 2) Ե
- 3) Է
- 4) Ը

45

Ո՞ր պնդումն է սխալ.

- 1) Արտաշատ և Արմավիր քաղաքները ցեմենտի արտադրության կենտրոններ են:
- 2) Քաջարան և Ախթալա քաղաքները զարգացել են իրենց մոտակայքում գտնվող հանքային հարստությունների առկայության և շահագործման շնորհիվ:
- 3) Մեծամորը և Ծաղկաձորը միագործառության քաղաքներ են:
- 4) Գյումրի և Վանաձոր քաղաքները վարչական, գիտակրթական ու մշակութային կենտրոններ են, արդյունաբերական, երկաթուղային ու ավտոխճուղային ճանապարհների հանգույց:

46

ՀՀ ո՞ր բնակավայրը առողջարանային չէ.

- 1) Հանքավանը
- 2) Ագարակը
- 3) Դիլիջանը
- 4) Արզնին

47

Ո՞ր պնդումն է սխալ.

- 1) ՀՀ տնտեսությունը մեծապես կախված է ներմուծվող էներգակիրներից:
- 2) ՀՀ տնտեսությունն ունի բազմաճյուղային կառուցվածք:
- 3) ՀՀ ՀՆԱ-ի կառուցվածքում ամենամեծը տրանսպորտի և կապի բաժինն է:
- 4) ՀՀ-ն անցումային տնտեսություն ունեցող երկիր է:

48

Երկաթուղային կայարաններ են.

- 1) Գորիսը և Միսիանը
- 2) Մարալիկը և Արթիկը
- 3) Գավառը և Մարտունին
- 4) Վայքը և Եղեգնաձորը

49

Վայոց ձորի մարզի վերաբերյալ ո՞ր պնդումն է սխալ.

- 1) Ցածրադիր գոտու ոռոգելի հողերում տարածված է խաղողագործությունը և պտղաբուծությունը:
- 2) Մարզի զարգացման գործում մեծ դեր ունի առողջարանային տնտեսությունը:
- 3) Գյուղատնտեսական նշանակության հողերի մեծ մասն արոտավայրեր են:
- 4) Գյուղատնտեսության առաջատար ճյուղերն են թռչնաբուծությունը և խոզաբուծությունը:

50

Լոռու մարզում արդյունաբերության ո՞ր ենթաճյուղը զարգացած չէ.

- 1) գինու-կոնյակի արտադրությունը
- 2) պղնձաձուլությունը
- 3) քիմիական արդյունաբերությունը
- 4) պանրի արտադրությունը

51

Ո՞ր պնդումն է ճիշտ.

- 1) Օդում մեծ քանակությամբ փոշու առկայության պատճառով խոշոր քաղաքներում օդի ջերմաստիճանն ավելի ցածր է, քան դրանցից դուրս:
- 2) Ջերմոցային էֆեկտի ազդեցության մեծացումը պայմանավորված է մթնոլորտում մեթանի և ածխաթթու գազի քանակի ավելացմամբ:
- 3) Օգոնային շերտի քայքայումը բնորոշ է միայն բարեխառն գոտուն:
- 4) Թթվային անձրևների առաջացման միակ պատճառն Արեգակի ուլտրամանուշակագույն ճառագայթներն են:

52

Էլեկտրակայանների տեսակներից ո՞րն է ամենաշատն աղտոտում մթնոլորտը.

- 1) ջրային
- 2) ջերմային
- 3) հողմային
- 4) արևային

53

Ընդերքի ռեսուրսների որոշ տեսակներ խնայելու արդյունավետ միջոցառում է.

- 1) անընդհատ նոր հանքավայրերի շահագործումը
- 2) շահագործվող հանքավայրերում պոչամբարների ստեղծումը
- 3) մետաղների փոխարինումը սինթետիկ նյութերով
- 4) փակ եղանակով արդյունահանման փոխարինումը բաց եղանակով

54

Ո՞ր պնդումն է ճիշտ.

- 1) Անտառապատ տարածքների կրճատման հետևանք է թթվային անձրևների առաջացումը:
- 2) Կոնսումենտները սննդառության շղթայի այն օղակն են, որոնք անօրգանական նյութերից սինթեզում են օրգանական նյութեր:
- 3) Արգելոցը ցամաքի կամ ջրային տարածքի տեղամաս է, որտեղ պահպանվում են բնական միջավայրի կամ կենդանի օրգանիզմների մեկ կամ մի քանի տեսակներ:
- 4) Շրջակա միջավայրի մոնիթորինգը բնական միջավայրի վիճակի և դրա մարդածին փոփոխությունների դիտարկումն է, գնահատումն ու վերահսկումն է:

55

Ո՞ր պնդումն է ճիշտ.

- 1) Մարդկային զարգացման համաթվի գլխավոր բաղադրիչներն են երկարակեցությունը, կրթվածությունը և կենսամակարդակը:
- 2) Պարենային հիմնախնդիրը բնորոշ է մեծամասամբ զարգացած երկրներին:
- 3) Զարգացող երկրների մեծ մասի տնտեսության մեջ գերակշռող ծառայությունների ոլորտն է:
- 4) Սովյակների և թերսնվողների գոտին ձգվում է առավելապես հյուսիսային կիսագնդի բարեխառն լայնություններում:

56

Գրել այն ապարների համարները, որոնք ունեն հրային ծագում.

- | | |
|--------------|-----------|
| 1) կերակրիաղ | 5) տուֆ |
| 2) կվարց | 6) գնեյս |
| 3) օբսիդիան | 7) գրանիտ |
| 4) կավիճ | 8) բազալտ |

57

Տրված են աշխարհի նշանավոր գետեր: Գրել անձրևային սնում ունեցող գետերի համարները.

- | | |
|--------------|------------|
| 1) Օրինոկո | 5) Օբ |
| 2) Սիրդարյա | 6) Պարանա |
| 3) Կոնգո | 7) Մեկոնգ |
| 4) Կոլումբիա | 8) Մակենզի |

58

Տրված են ծովային հոսանքներ: Գրել Ատլանտյան օվկիանոսի ծովային հոսանքների համարները.

- | | |
|--------------|--------------|
| 1) Գվիանական | 5) Գոլֆստրիմ |
| 2) Կուրո Սիո | 6) Մոզամբիկի |
| 3) Սոմալիի | 7) Ալյասկայի |
| 4) Բենգելյան | 8) Գվինեական |

59

Գրել այն լեզվախմբերի համարները, որոնք չեն մտնում հնդեվրոպական լեզվաընտանիքի մեջ.

- | | |
|---------------|----------------|
| 1) սլավոնական | 5) քարթվելական |
| 2) ռոմանական | 6) իրանական |
| 3) գերմանական | 7) սեմական |
| 4) թյուրքական | 8) հայկական |

60

Գրել այն երկրների համարները, որոնք մերձծովային են.

- | | |
|--------------|--------------|
| 1) Ալժիր | 5) Շվեդիա |
| 2) Բելգիա | 6) Շվեյցարիա |
| 3) Մոլդովա | 7) Մոնղոլիա |
| 4) Հունգարիա | 8) Բոլիվիա |

61

Գրել ՀՀ այն էլեկտրակայանների համարները, որոնք ջրային չեն.

- | | |
|-------------|-------------|
| 1) Վանաձորի | 5) Ձորագետի |
| 2) Քանաքեռի | 6) Տաթևի |
| 3) Մեծամորի | 7) Շամբի |
| 4) Արգնիի | 8) Սևանի |

62

Հայկական լեռնաշխարհի տրված գետերի համարները դասավորել դրանց հոսքի ուղղության արևմուտքից արևելք, հյուսիսից հարավ, հարավից հյուսիս հաջորդականությամբ.

1. Ճորոխ

2. Արաքս

3. Ախուրյան

63

Տրված են տարբեր բացարձակ բարձրություն ունեցող հարթավայրեր:
Դասավորել բարձրության նվազման կարգով.

1. դաշտավայր

2. սարահարթ

3. ցածրավայր

4. բարձրավայր

64

Լեռան ստորոտին մթնոլորտային ճնշումը 680 մմ է, իսկ օդի ջերմաստիճանը՝ $+25^{\circ}\text{C}$:
Լեռան գագաթին օդի ջերմաստիճանը $+10^{\circ}\text{C}$ է (հաշվարկը կատարել 5°C -ով).
Որոշել մթնոլորտային ճնշումը լեռան գագաթին:

65

Ինչքա՞ն է կետրաէներգիա կարելի է ստանալ 3 տ նավթի այրումից (ջերմային գործակիցը՝ 1,5):

66

Պետության բնակչության թիվը 1 մլն է: Մեկ տարվա ընթացքում ծնվածների թիվը 25 000 մարդ է, իսկ մահացածների թիվը՝ 10 000 մարդ: Որոշել բնակչության բնական աճի գործակիցը (%):

67

Վայրի աշխարհագրական կոորդինատներն են՝ հվ. լ. 38°, արլ. ե. 147°: Որոշել տվյալ վայրի ժամային գոտին:

68

Երկրի նավթի պաշարները կազմում են 6,8 մլրդ տ, տարեկան հանույթը՝ 170 մլն տ: Որքա՞ն է ռեսուրսապահովվածությունը:

69

Ճապոնիայի վերաբերյալ տրված պնդումներից որո՞նք են ճիշտ, որո՞նք՝ սխալ.

- 1) Տնտեսության զարգացման մակարդակով առաջինն է Արևելյան Ասիայում:
- 2) Թույլ է ապահովված հումքի և վառելիքի սեփական պաշարներով:
- 3) Արդյունաբերության առաջատար ճյուղը թեթև արդյունաբերությունն է:
- 4) Ավտոճանապարհային ցանցի համար բնորոշ են արագընթաց լայնահուն մայրուղիները:
- 5) Բեռնաշրջանառության մեջ մեծ է գետային տրանսպորտի բաժինը:
- 6) Արտահանման մեջ գերակշռում են մեքենաներն ու սարքավորումները:

70

ՀՀ անասնապահության վերաբերյալ տրված պնդումներից որո՞նք են ճիշտ, որո՞նք՝ սխալ.

- 1) Թռչնաբուծական ֆարրիկաներն առավելապես տեղաբաշխված են խոշոր քաղաքների կամ արդյունաբերական կենտրոնների մոտակայքում:
- 2) Ոչխարաբուծությունն առավել զարգացած է նախալեռնային և լեռնային շրջաններում:
- 3) Արոտավայրերի գերբեռնվածությունը և գերարածեցումը բնապահպանական հիմնախնդիրներ են առաջացնում:
- 4) Խոշոր եղջերավոր անասնաբուծությունը մյուս ճյուղերի համեմատ խիստ անհամաչափ է տեղաբաշխված:
- 5) Անասնապահության համախառն արտադրանքի մեծ մասը բաժին է ընկնում մանր եղջերավոր անասնապահությանը:
- 6) Խոզաբուծությունն առավել զարգացած է Գեղարքունիքի և Շիրակի մարզերում: